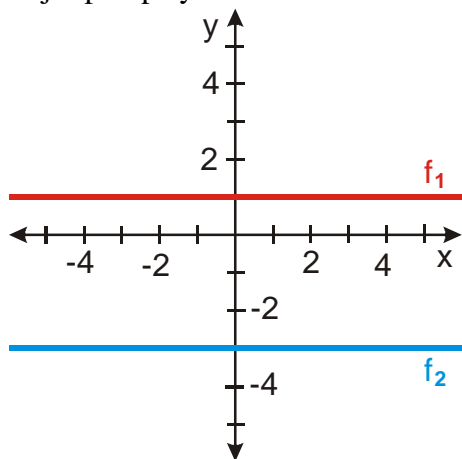
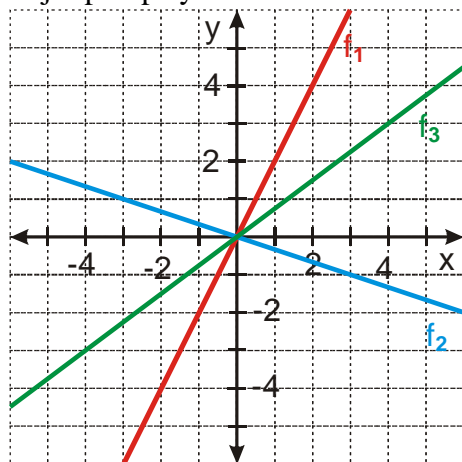


### 2.1.11 Lineární funkce IV

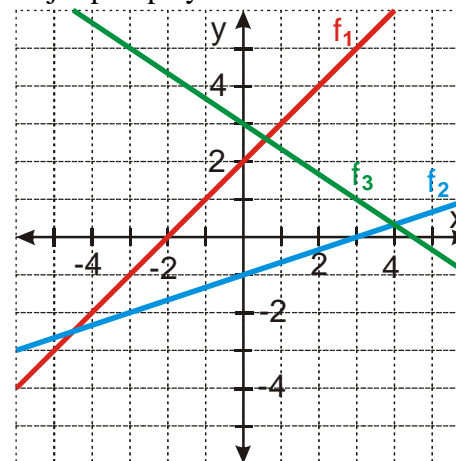
**Př. 1:** Najdi předpisy lineárních funkcí na obrázku.



**Př. 2:** Najdi předpisy lineárních funkcí na obrázku.



**Př. 3:** Najdi předpisy lineárních funkcí na obrázku.

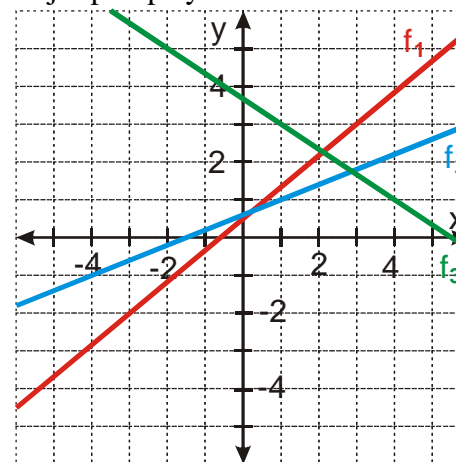


**Př. 4:** Lineární funkce prochází body [1,1] a [3,-2]. Urči její předpis:

a) pomocí soustavy rovnic

b) pomocí významu konstant  $a$  a  $b$

**Př. 5:** Najdi předpisy lineárních funkcí na obrázku.



**Př. 6:** Petáková:

strana 27 cvičení 33 a) b) d) e)