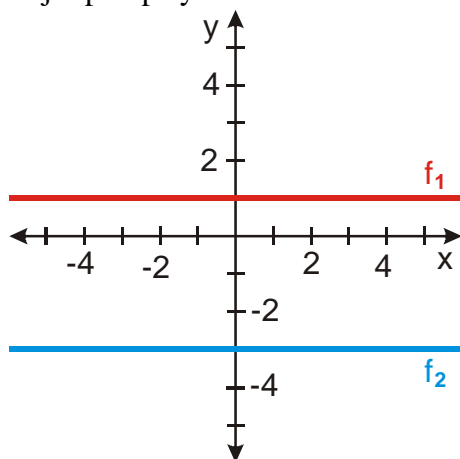
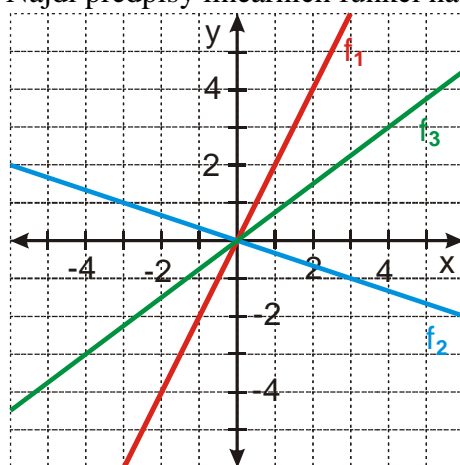


## 2.1.11 Lineární funkce IV

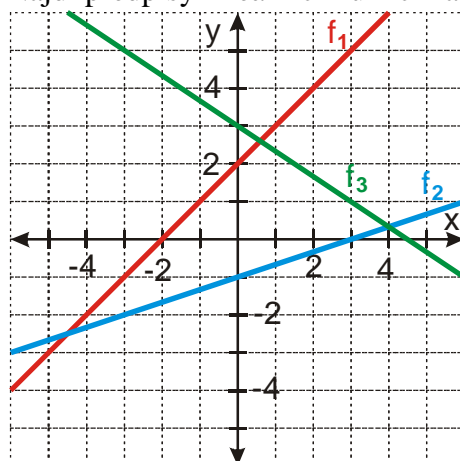
**Př. 1:** Najdi předpisy lineárních funkcí na obrázku.



**Př. 2:** Najdi předpisy lineárních funkcí na obrázku.

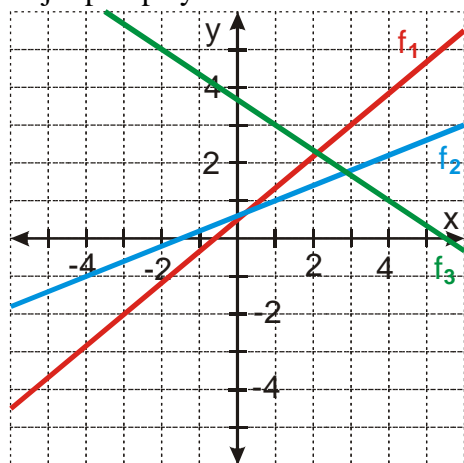


**Př. 3:** Najdi předpisy lineárních funkcí na obrázku.



**Př. 4:** Lineární funkce prochází body  $[1,1]$  a  $[3,-2]$ . Urči její předpis:  
a) pomocí soustavy rovnic,  
b) pomocí významu konstant  $a$  a  $b$ .

**Př. 5:** Najdi předpisy lineárních funkcí na obrázku.



**Př. 6:** Petáková:  
strana 27 cvičení 33 a) b) d) e)