

5.1.11 Řezy těles rovinou III

Př. 1: Je dána standardní krychle $ABCDEFGH$. Sestroj řez této krychle rovinou ABS_{CG} .

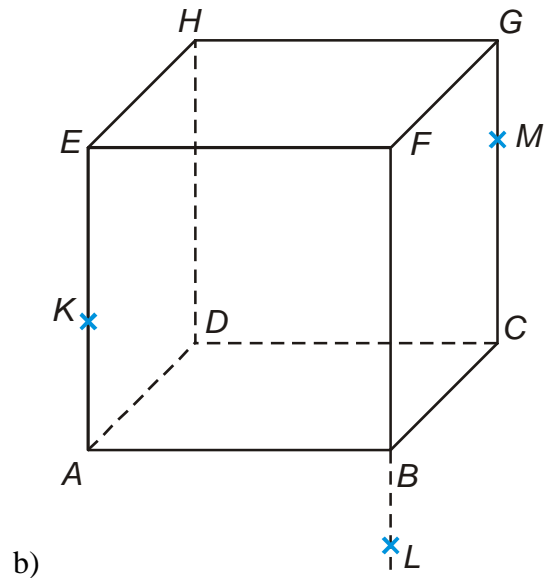
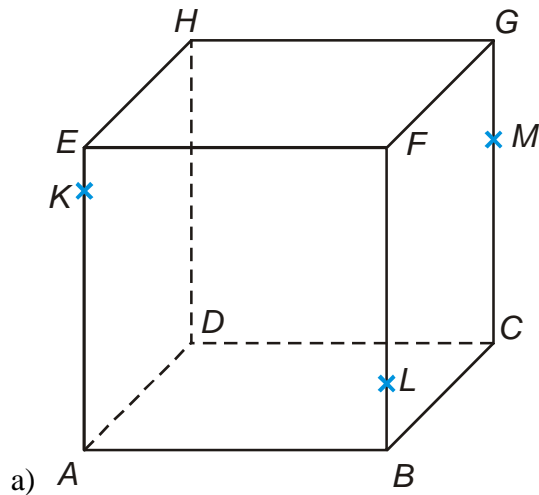
Př. 2: Je dána standardní krychle $ABCDEFGH$. Sestroj řez této krychle rovinou:

a) $BS_{AE}S_{CG}$

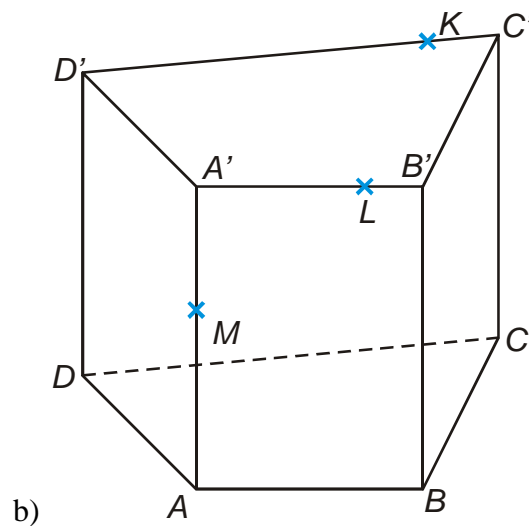
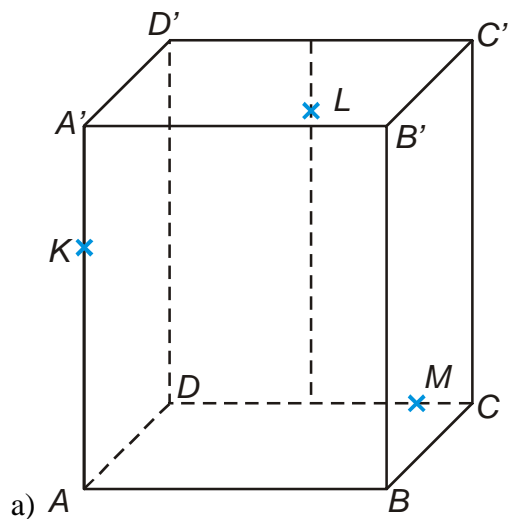
b) AHS_{BF}

c) $CS_{BF}S_{EF}$

Př. 3: Sestroj řezy krychlí $ABCDEFGH$ rovinami KLM .



Př. 4: Sestroj řezy těles rovinami KLM .



Př. 5: Petáková:
strana 90/cvičení 6 a) d) f) h) i)