

7.2.2 Sčítání vektorů

Předpoklady: 7201

Př. 1: V rovině jsou dány body $A[-3;4]$, $B[-1;1]$. Urči: a) S_{AB} b) $u = B - A$.

$$\text{a) } S_{AB} \left[\frac{a_1 + b_1}{2}, \frac{a_2 + b_2}{2} \right] = \left[\frac{-3 + (-1)}{2}, \frac{4 + 1}{2} \right] = \left[-2; \frac{5}{2} \right]$$

$$\text{b) } u = B - A = [-1;1] - [-3;4] = (2; -3)$$

Pedagogická poznámka: Žáci, kteří se vyloženě nepřipravují na hodiny, mají problém s tím, že si jim pletou postupy pro střed a vektor (v nejhorších případech dokonce ani neočekávají pro S_{AB} dvojici souřadnic a získají sčítáním jedno číslo). Opakujeme proto střed je „průměr krajních bodů“, vektor je jejich „rozdíl“.

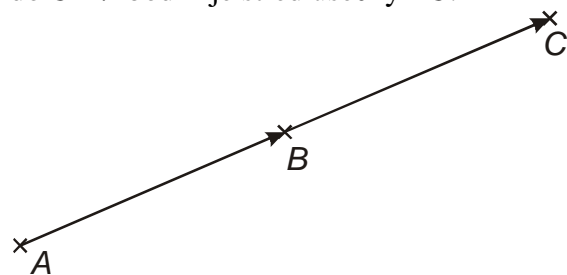
Př. 2: Kromě bodů $A[-3;4]$, $B[-1;1]$ leží v rovině ještě bod $C[1;-2]$. Urči vektory: $v = C - B$ a $w = C - A$. Načrtni obrázek bodů A , B a C .

$$u = B - A = [-1;1] - [-3;4] = (2; -3)$$

$$v = C - B = [1;-2] - [-1;1] = (2; -3)$$

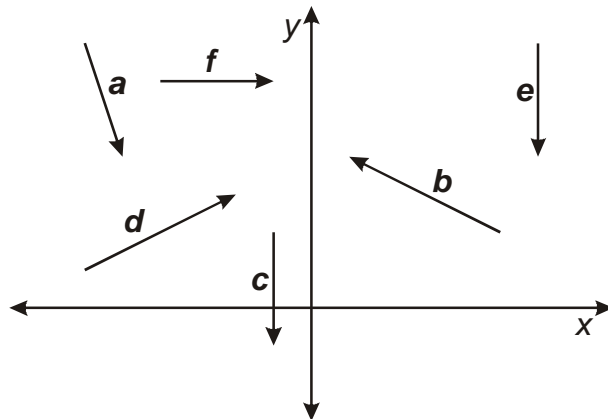
$$w = C - A = [1;-2] - [-3;4] = (4; -6)$$

Vektory $u = B - A$ a $v = C - B$ jsou shodné \Rightarrow posunutí z A do B je stejné jako posunutí z B do $C \Rightarrow$ bod B je střed úsečky AC .



Pedagogická poznámka: Studenti většinou necítí potřebu postupovat při definici sčítání vektorů (obecně při zavádění jakékoliv operace) tak striktně, jak vyžaduje matematika. Upozorňuji je tedy na začátku hodiny, že se jim bude opatrnost matematiků zdát přehnaná, ale že tímto způsobem se v matematice zkrátka pracuje.

Př. 3: Na obrázku jsou nakresleny vektory se souřadnicemi $(-4;2)$, $(0;-3)$, $(4;2)$ a $(1;-3)$. Přiřaď vektorům jejich souřadnice.



Vektor a má kladnou x -ovou složku a zápornou y -ovou složku $\Rightarrow a = (1;-3)$.

Vektor b má zápornou x -ovou složku a kladnou y -ovou složku $\Rightarrow b = (-4;2)$.

Vektor c má nulovou x -ovou složku a zápornou y -ovou složku $\Rightarrow c = (0;-3)$.

Vektor d má kladnou x -ovou složku a kladnou y -ovou složku $\Rightarrow d = (4;2)$.

Vektor e má nulovou x -ovou složku a zápornou y -ovou složku $\Rightarrow e = (0;-3)$.

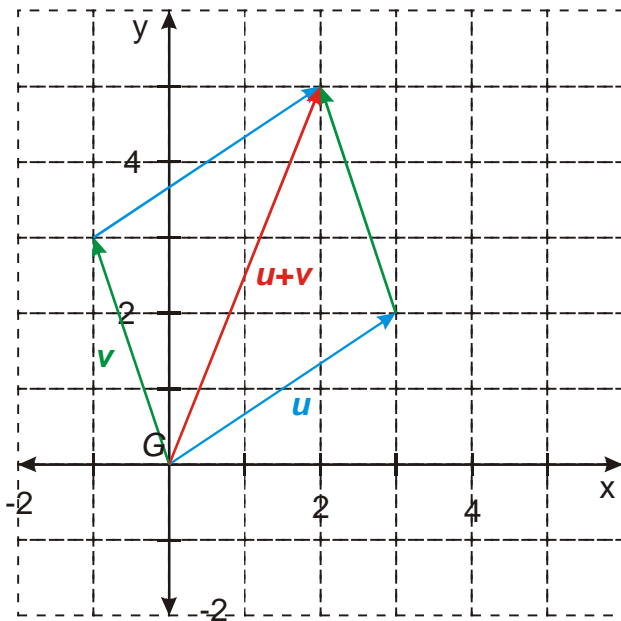
Vektor f má kladnou x -ovou složku a nulovou y -ovou složku \Rightarrow neodpovídá žádnému ze zadaných vektorů..

Máme už zavedenou množinu vektorů, teď potřebujeme nějaké operace (stejně jsme si v prvním ročníku zavedli množinu racionálních čísel a pak si pro ni nadefinovali sčítání zlomků).

Sčítání vektorů

Známe z fyziky pomocí rovnoběžníku sil nebo skládáním vektorů za sebe.

Př. 4: Jsou dány vektory $\mathbf{u} = (3; 2)$ a $\mathbf{v} = (-1; 3)$. Zakresli oba vektory a urči graficky jejich součet (vektor $\mathbf{u} + \mathbf{v}$). Najdi vztah, který by umožnil určit jejich součet početně pomocí souřadnic.



Souřadnice vektoru $\mathbf{u} + \mathbf{v}$: $(2; 5)$.

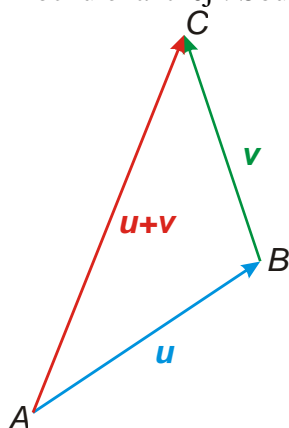
Zdá se, že platí: $\mathbf{u} + \mathbf{v} = (u_1; u_2) + (v_1; v_2) = (u_1 + v_1; u_2 + v_2)$.

Ověříme vztah pro naše vektory: $\mathbf{u} + \mathbf{v} = (3; 2) + (-1; 3) = (3 + [-1]; 2 + 3) = (2; 5)$.

Pedagogická poznámka: Zápisy $(u_1; u_2) + (v_1; v_2) = (u_1 + v_1; u_2 + v_2)$ používám schválně.

Snažím se tím posilovat vnímání vektorů jako uspořádaných dvojic čísel, slabší studenti mají tendenci obě složky separovat a vnímat zvlášť.

Trochu exaktněji: Součet vektorů $\mathbf{u} = \mathbf{B} - \mathbf{A}$ a $\mathbf{v} = \mathbf{C} - \mathbf{B}$ je vektor $\mathbf{u} + \mathbf{v} = \mathbf{C} - \mathbf{A}$.



Tato definice (v podstatě skládání vektorů za sebe) platí vždy, neboť pro každý vektor \mathbf{v} můžeme zvolit takové umístění, aby konečný bod vektoru \mathbf{u} byl počátečním bodem vektoru \mathbf{v} .

Pro každé dva vektory $\mathbf{u} = (u_1; u_2)$ a $\mathbf{v} = (v_1; v_2)$ platí

$$\mathbf{u} + \mathbf{v} = (u_1; u_2) + (v_1; v_2) = (u_1 + v_1; u_2 + v_2).$$

Pro každé dva vektory $\mathbf{u} = (u_1; u_2; u_3)$ a $\mathbf{v} = (v_1; v_2; v_3)$ platí
 $\mathbf{u} + \mathbf{v} = (u_1; u_2; u_3) + (v_1; v_2; v_3) = (u_1 + v_1; u_2 + v_2; u_3 + v_3)$.

Skvělé je, že sčítání vektorů realizujeme jako sčítání jejich souřadnic.

Př. 5: (BONUS) Dokaž pomocí souřadnic bodů vzorec pro výpočet souřadnic součtu vektorů.

Stačí pro jednu ze souřadnic:

$$\mathbf{u} = \mathbf{B} - \mathbf{A} \Rightarrow u_1 = b_1 - a_1$$

$$\mathbf{v} = \mathbf{C} - \mathbf{B} \Rightarrow v_1 = c_1 - b_1$$

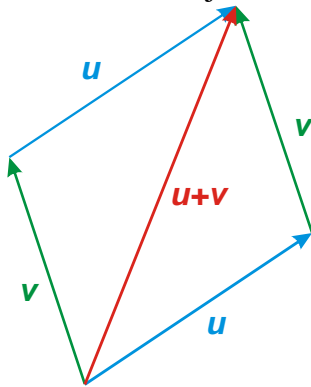
$$\mathbf{w} = \mathbf{u} + \mathbf{v} = \mathbf{C} - \mathbf{A} \Rightarrow w_1 = c_1 - a_1 = c_1 - b_1 + b_1 - a_1 = v_1 + u_1$$

Jaké má sčítání vektorů vlastnosti?

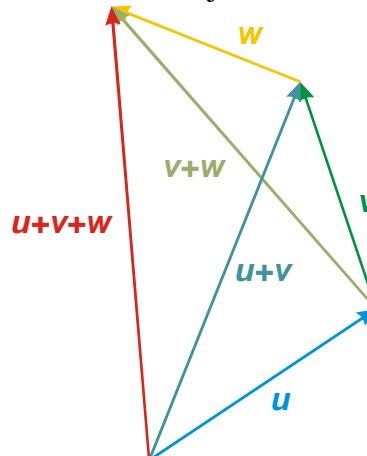
- Je komutativní \Rightarrow pro každé dva vektory \mathbf{u}, \mathbf{v} platí $\mathbf{u} + \mathbf{v} = \mathbf{v} + \mathbf{u}$.
- Je asociativní \Rightarrow pro každé tři vektory $\mathbf{u}, \mathbf{v}, \mathbf{w}$ platí $(\mathbf{u} + \mathbf{v}) + \mathbf{w} = \mathbf{u} + (\mathbf{v} + \mathbf{w})$.

Obojí je možné dokázat ze souřadnic i obrázkem.

Sčítání vektorů je komutativní.



Sčítání vektorů je asociativní.



Vektor určený nulovou orientovanou úsečkou se nazývá **nulový vektor** a označuje se \mathbf{o} .

Jeli $\mathbf{u} = \mathbf{B} - \mathbf{A}$, nazývá se vektor $\mathbf{A} - \mathbf{B}$ opačný vektor k vektoru \mathbf{u} a označuje se $-\mathbf{u}$.

Př. 6: Doplň následující věty:

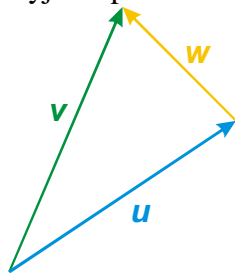
a) Pro každý vektor \mathbf{u} platí $\mathbf{u} + \mathbf{o} =$

b) Pro každý vektor \mathbf{u} platí $\mathbf{u} + (-\mathbf{u}) =$

a) Pro každý vektor \mathbf{u} platí $\mathbf{u} + \mathbf{o} = \mathbf{u}$.

b) Pro každý vektor \mathbf{u} platí $\mathbf{u} + (-\mathbf{u}) = \mathbf{o}$.

Př. 10: Vyjádři pomocí vektorů u a v vektor w . Výsledek zdůvodni.



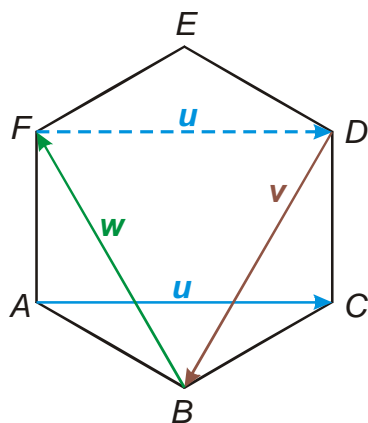
Porovnáním s předchozím obrázkem vidíme, že platí $w = v - u$.

Důvody:

- Vektory u a w tvoří rovnoběžník s výslednicí $v \Rightarrow v = u + w \Rightarrow w = v - u$.
- Z obrázku je vidět, že vektor w má i význam změny vektoru u na vektor $v \Rightarrow w = v - u$ (změna = konečný – počáteční stav).

Pedagogická poznámka: Někteří studenti nakreslí vektor $v - u$ ihned způsobem použitým v příkladě 7, pro ně nemá tento příklad valný význam. Je jich však minimum. Předchozí dva příklady považují za užitečné. Studenti se s nimi často setkávají, ale mnohdy jim nejsou příliš jasné.

Př. 11: Je dán pravidelný šestiúhelník $ABCDEF$. Označ $u = C - A$, $v = B - D$ a $w = F - B$. Urči vektor $u + v + w$.



Z obrázku je zřejmé, že jiným možným umístěním vektoru u je orientovaná úsečka $FD \Rightarrow u + v + w = o$.

Pedagogická poznámka: Největší problém dělá studentům při řešení příkladu správné vyznačení směru vektorů (kreslí šipky obráceně).

Př. 12: Petáková:
strana 100/cvičení 13
strana 101/cvičení 22

Shrnutí: Souřadnice součtu vektorů získáme jako součet souřadnic sčítaných vektorů.