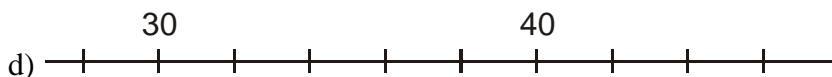
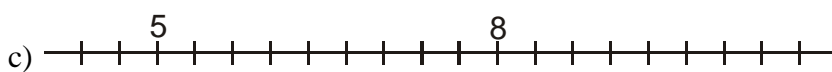
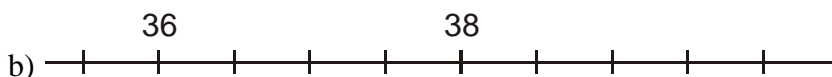
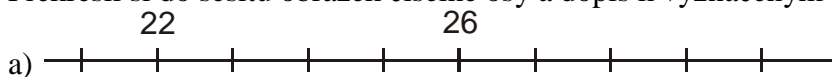


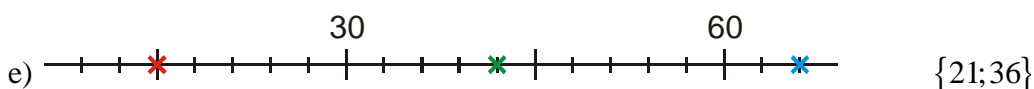
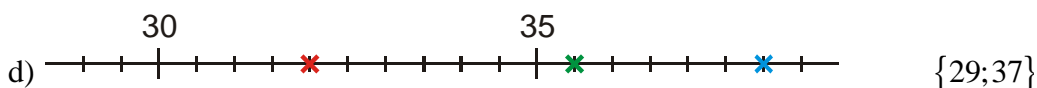
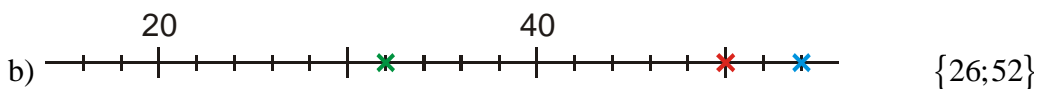
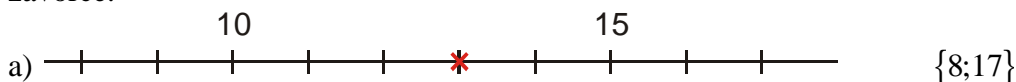
1.1.5 Odečítání ze stupnice

Př. 1: Narýsuj do sešitu vodorovnou číselnou osu. Na ose zobraz všechna přirozená čísla větší než 38 a menší než 44. Délku jednoho dílku zvol tak, abys co nejvíce využil celou šířku stránky.

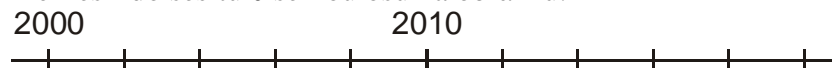
Př. 2: Překresli si do sešitu obrázek číselné osy a dopiš k vyznačeným obrazům čísla.



Př. 3: Urči čísla, jejichž obraz je na ose vyznačen křížkem. Vyznač na osu čísla ve složené závorce.



Př. 4: Překresli do sešitu číselnou osu na obrázku.



Zakresli do ní:

- rok Tvého narození,
- rok, kdy jsi šel poprvé do školy,
- rok Tvé plnoletosti (18 let),
- rok, kdy bys měl vykonat maturitní zkoušku (pokud budeš úspěšným studentem a

nebudeš opakovat žádný ročník).

Na osu můžeš zakreslit i další důležité události v Tvém životě. V případě potřeby osu prodluž.