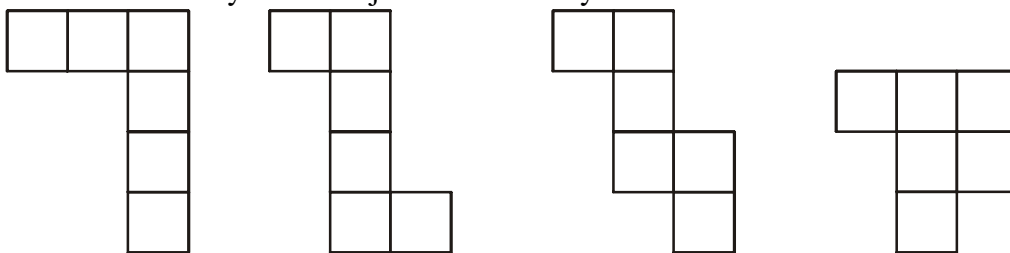
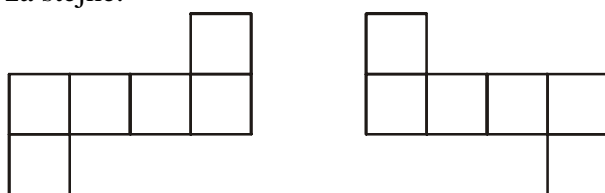


1.4.14 Oblékání těles I

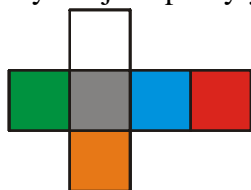
Př. 1: Které z nakreslených útvarů jsou další sítě krychle?



Př. 2: Najdi další sítě krychle. Sítě, které jsou souměrné (viz příklad na obrázku), považuj za stejné.



Př. 3: Na obrázku je nakreslena síť krychle s barevnými stěnami. Které z následujících krychlí jsou pokryty touto sítí?



Př. 4: Nejdříve načrtni a pak narýsuj síť kvádrů o hranách 2 cm, 3 cm a 4 cm.