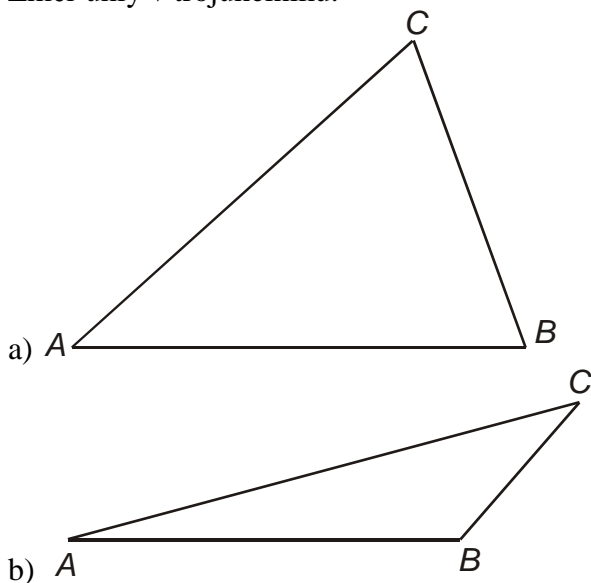


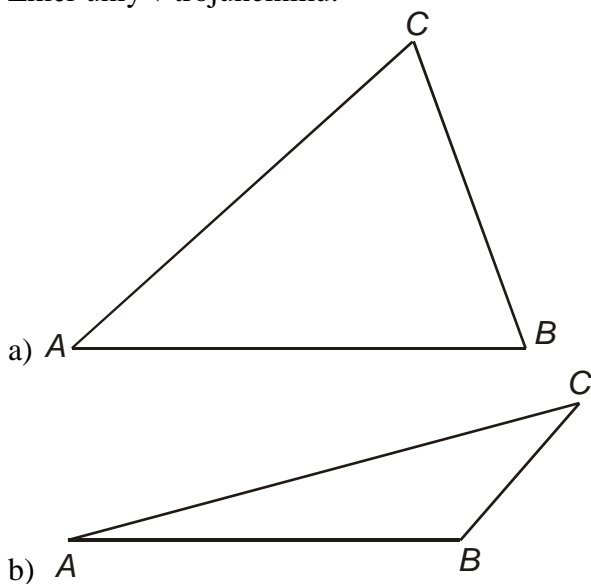
1.5.3 Velikost úhlu II

Př. 3: Změř úhly v trojúhelníku.



Př. 4: Narýsuj úhly: $\alpha = 23^\circ$ $\beta = 107^\circ$ $\gamma = 76^\circ$ $\delta = 171^\circ$

Př. 3: Změř úhly v trojúhelníku.



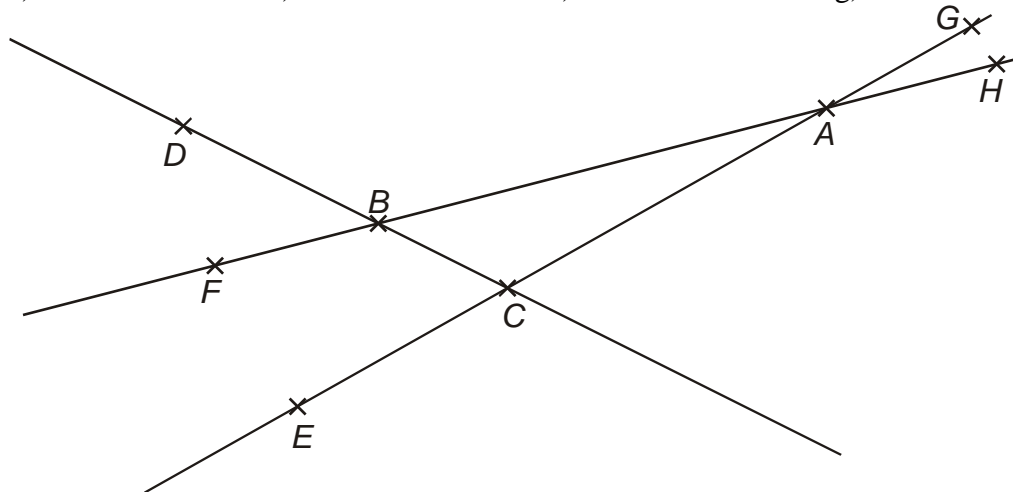
Př. 4: Narýsuj úhly: $\alpha = 23^\circ$ $\beta = 107^\circ$ $\gamma = 76^\circ$ $\delta = 171^\circ$

Př. 5: Změř velikosti:

a) $\sphericalangle DCE$
d) $\sphericalangle GCD$

b) $\sphericalangle CAH$
f) $\sphericalangle FBC$

c) $\sphericalangle CBA$
g) $\sphericalangle HBD$



Př. 5: Změř velikosti:

a) $\sphericalangle DCE$
d) $\sphericalangle GCD$

b) $\sphericalangle CAH$
f) $\sphericalangle FBC$

c) $\sphericalangle CBA$
g) $\sphericalangle HBD$

