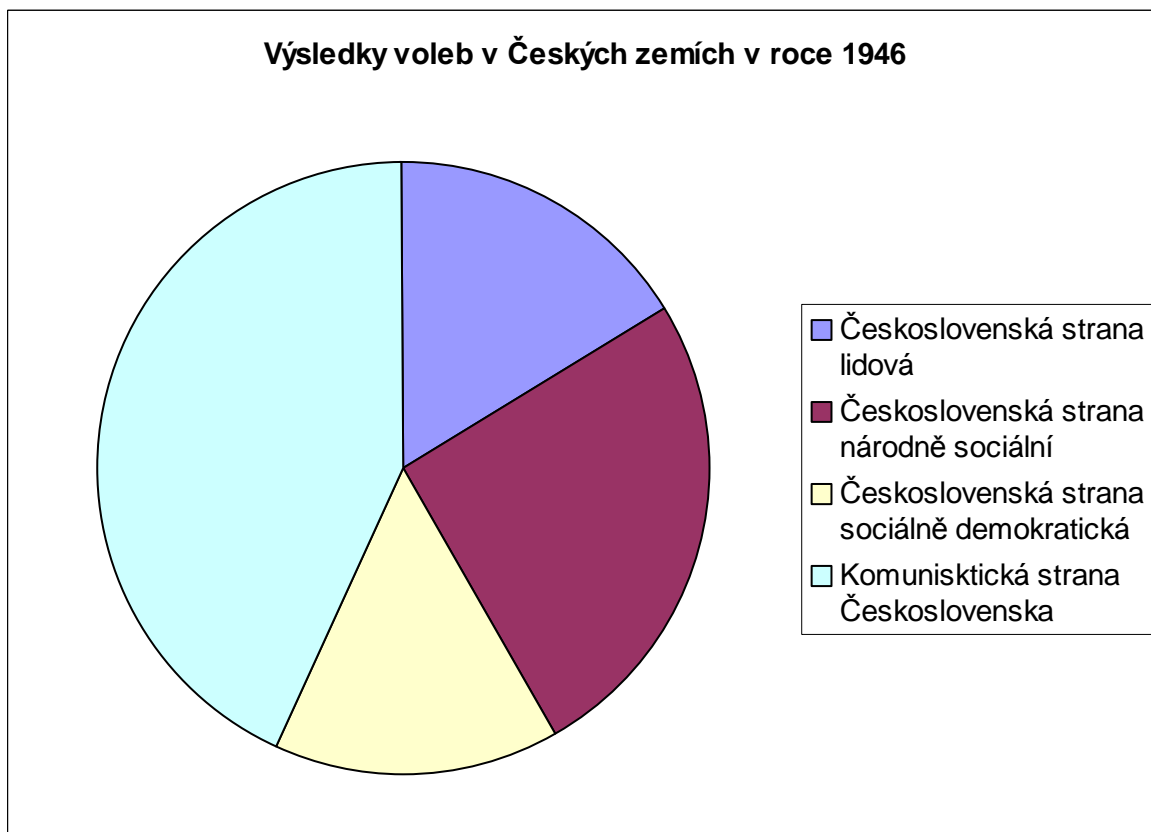
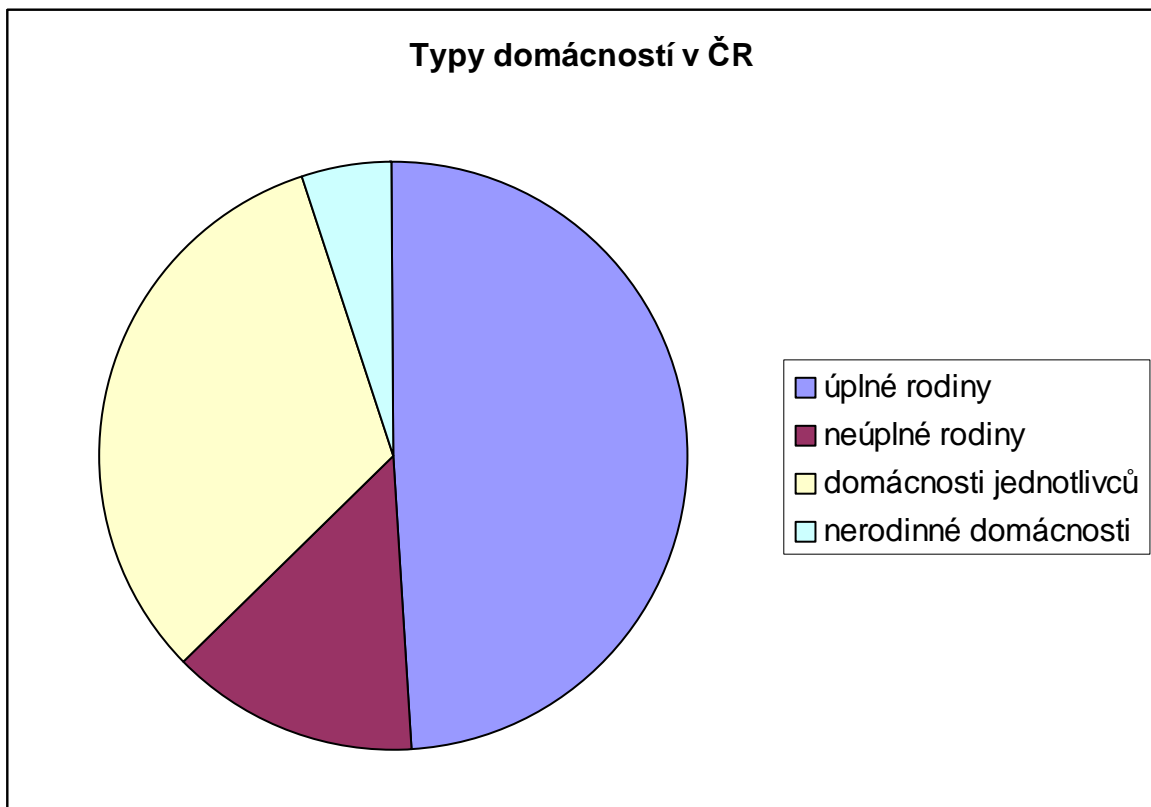


1.5.9 Koláče

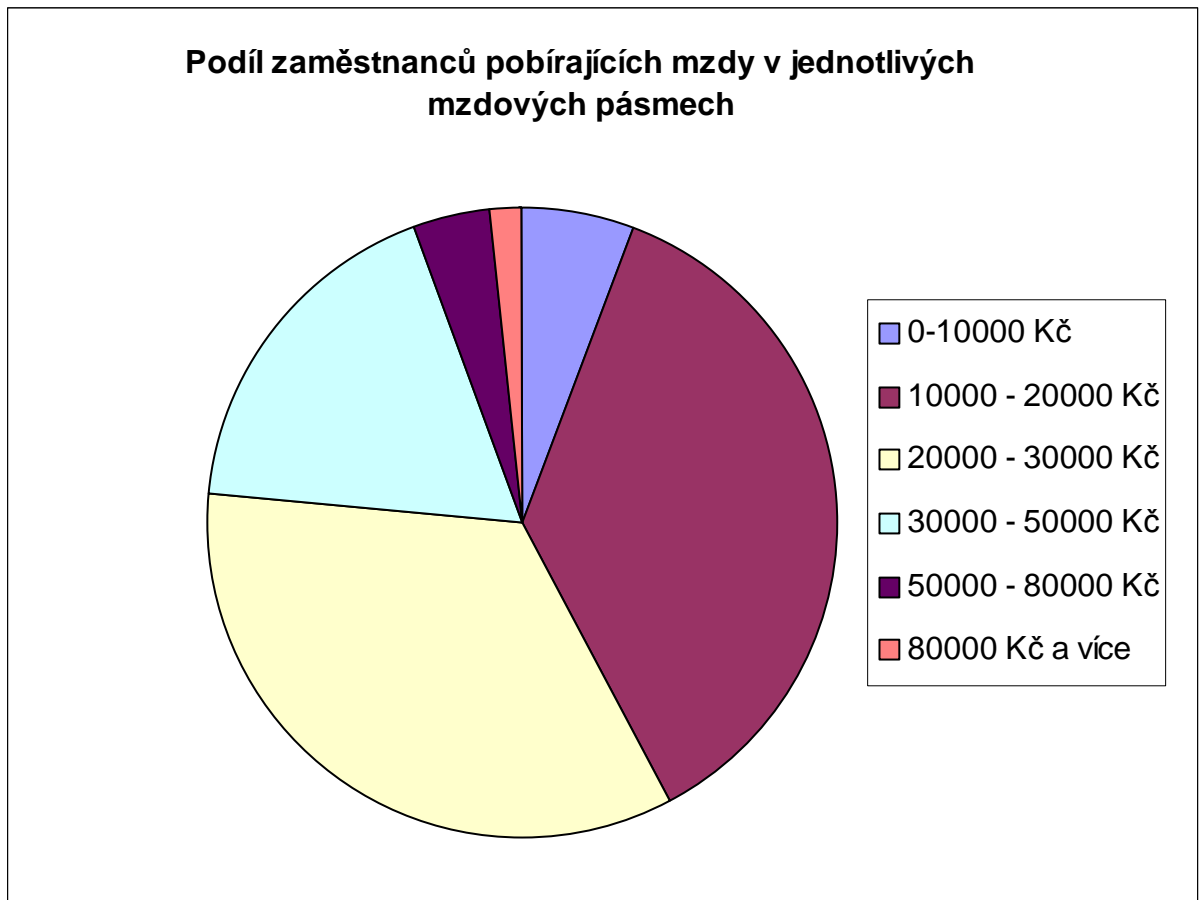
Př. 1: Na nakresleném grafu jsou znázorněny výsledky voleb do československého parlamentu v roce 1946. Seřaď tehdejší strany podle oblíbenosti. Jak jsou v grafu rozdíly v oblíbenosti zachyceny?



Př. 2: Na grafu jsou znázorněny počty různých typů domácností v ČR. Celkem je v ČR 4 375 000 domácností. Urči s přesností na tisíce počty jednotlivých typů domácností.



Př. 3: Při vyjadřování podílu se často používají procenta. Pokud má například 20 procent lidí mzdu mezi 10 000 Kč a 20 000 Kč, znamená to, že v typické stovce lidí pobírá právě 20 z nich mzdu mezi 10 000 Kč a 20 000 Kč. Na následujícím grafu je uvedeno rozdělení mezd v roce 2011. Kolik procent zaměstnanců bere mzdu v každém z uvedených rozmezí?



Př. 4: Zjisti ve třídě, jakým způsobem se žáci Tvé třídy dopravují (nejčastěji) do školy. Znázorni získaná data pomocí koláčového grafu. Vybírej s z těchto možností (pěšky, na kole, autobusem, autem, vlakem, jinak).