



1. Na obrázcích jsou zachyceny některé zajímavé turistické památky. U každé památky je napsáno měřítko, ve kterém je obrázek nakreslen. vyznač do obrázků vzdálenost, kterou je možné označit jako výšku památky. Tuto vzdálenost změř a spočti z ní výšku skutečné památky.

1:7000



a)

1:1270



b)

1:230



c)


1:70



d)


1. Na obrázcích jsou zachyceny některé zajímavé turistické památky. U každé památky je napsáno měřítko, ve kterém je obrázek nakreslen. vyznač do obrázků vzdálenost, kterou je možné označit jako výšku památky. Tuto vzdálenost změř a spočti z ní výšku skutečné památky.

1:7000



a)

1:1270



b)

1:230



c)


1:70



d)


1. Na obrázcích jsou zachyceny některé zajímavé turistické památky. U každé památky je napsáno měřítko, ve kterém je obrázek nakreslen. vyznač do obrázků vzdálenost, kterou je možné označit jako výšku památky. Tuto vzdálenost změř a spočti z ní výšku skutečné památky.

1:7000



a)

1:1270



b)

1:230



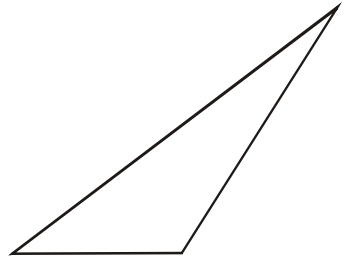
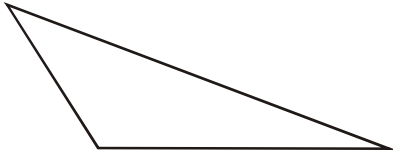
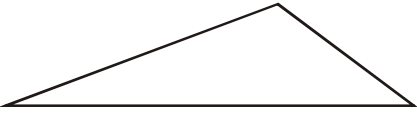
c)

1:70

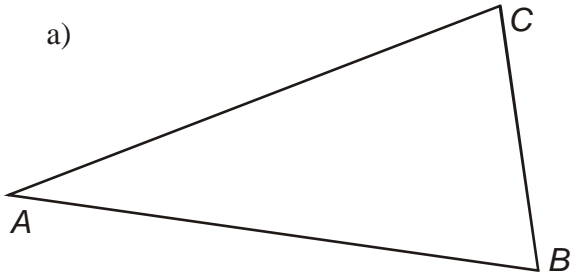


d)

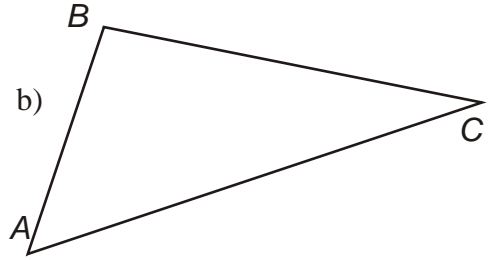
2.



a)

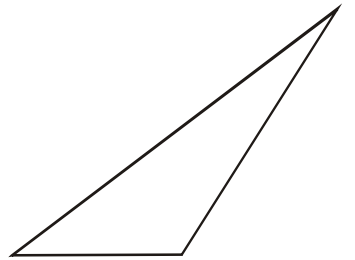
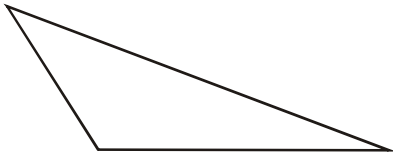
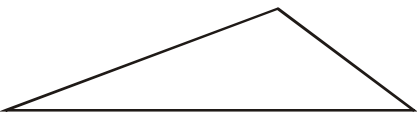


b)

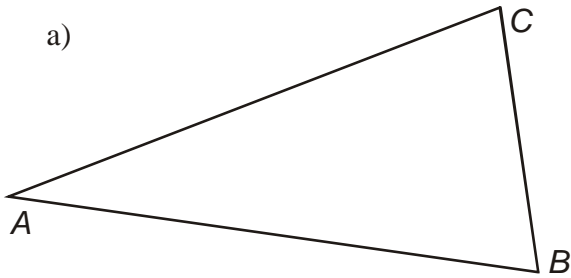


4.

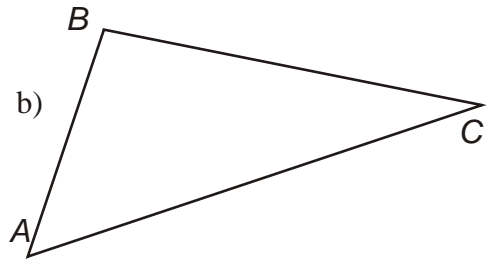
2.



a)

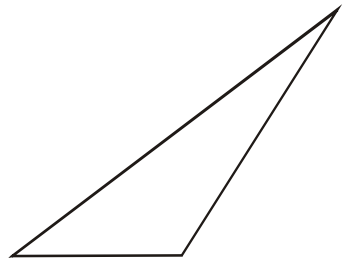
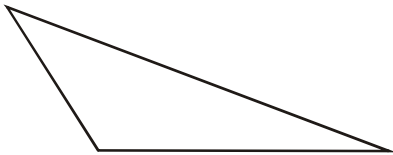
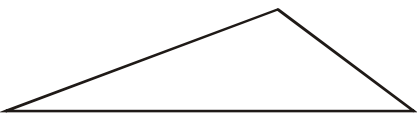


b)

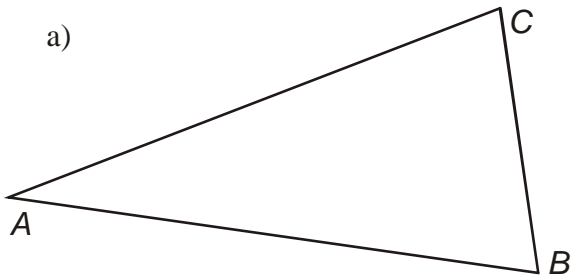


4.

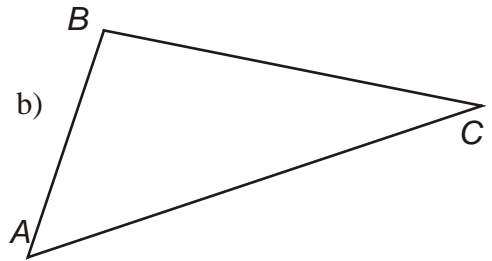
2.



a)



b)



4.