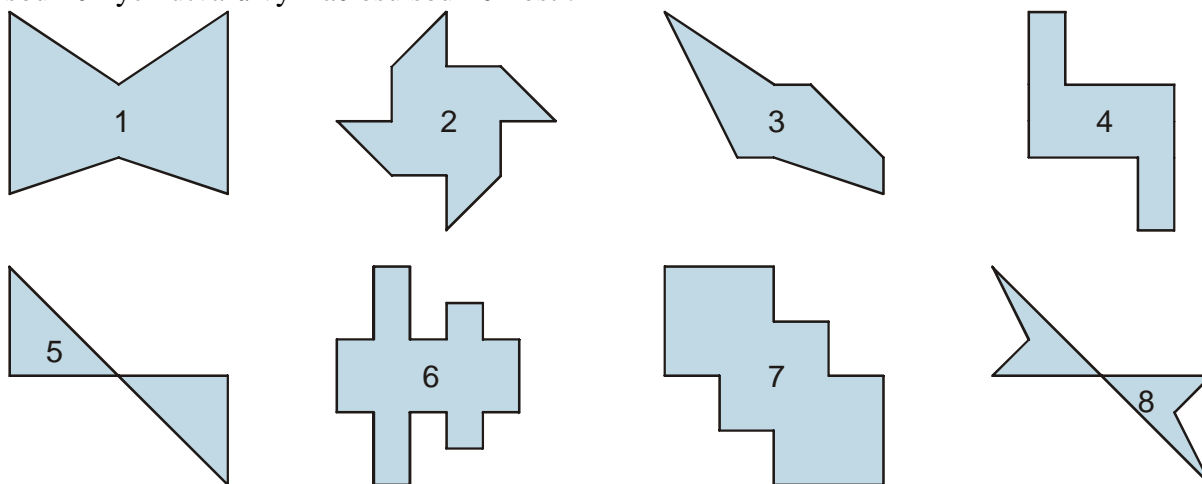
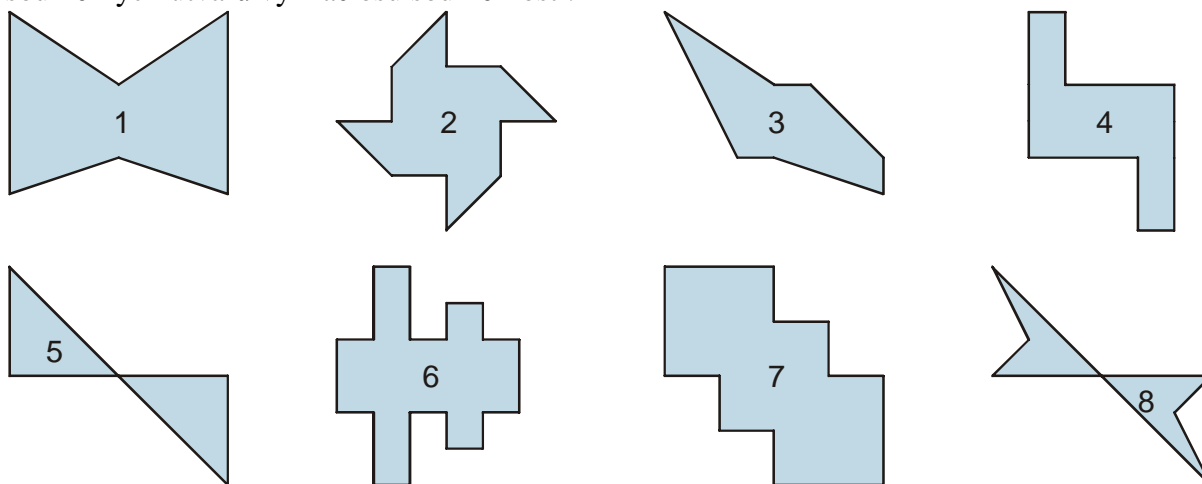


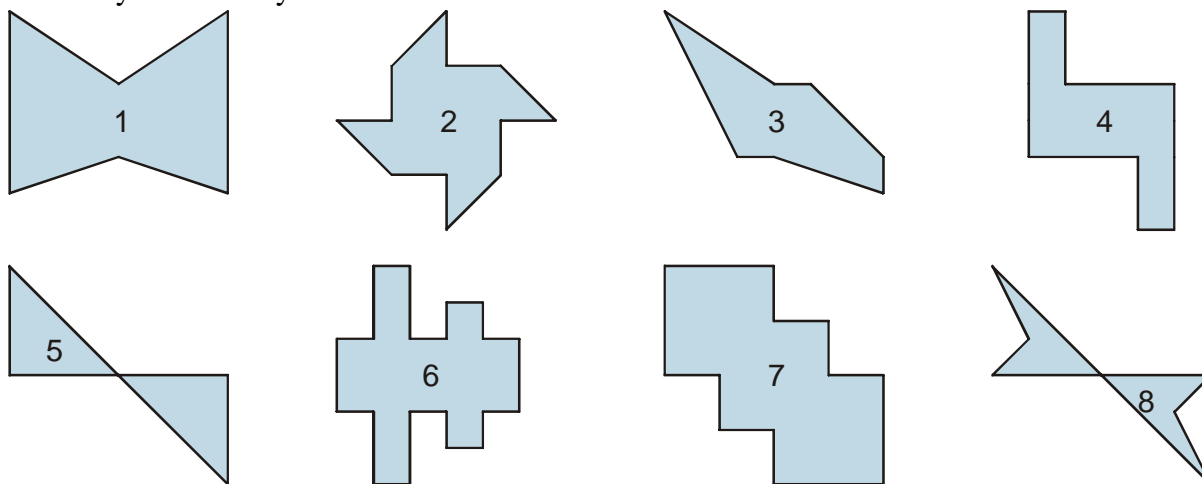
1. Na papírku je několik útvarů, pomocí průsvitky hledej odpovědi. Které z útvarů jsou osově souměrné? Které souměrné nejsou? Které jsou souměrné ale jinak než osově? Jak tato jiná souměrnost funguje? U osově souměrných útvarů vyznač osu souměrnosti.



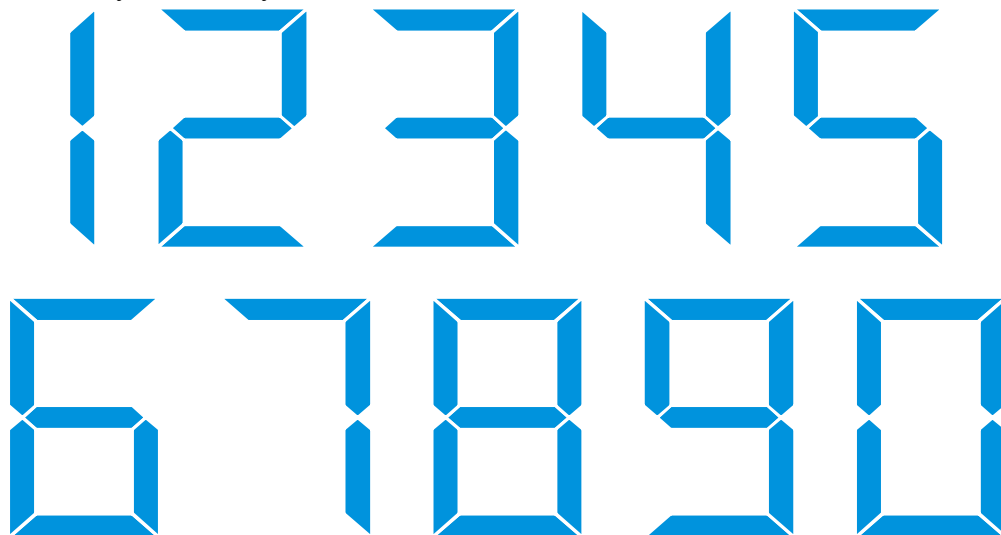
1. Na papírku je několik útvarů, pomocí průsvitky hledej odpovědi. Které z útvarů jsou osově souměrné? Které souměrné nejsou? Které jsou souměrné ale jinak než osově? Jak tato jiná souměrnost funguje? U osově souměrných útvarů vyznač osu souměrnosti.



1. Na papírku je několik útvarů, pomocí průsvitky hledej odpovědi. Které z útvarů jsou osově souměrné? Které souměrné nejsou? Které jsou souměrné ale jinak než osově? Jak tato jiná souměrnost funguje? U osově souměrných útvarů vyznač osu souměrnosti.



5. Na obrázku jsou digitální číslice. U číslic, které jsou osově souměrné vyznač osy souměrnosti, u číslic, které jsou středově souměrné vyznač středy souměrnosti.



5. Na obrázku jsou digitální číslice. U číslic, které jsou osově souměrné vyznač osy souměrnosti, u číslic, které jsou středově souměrné vyznač středy souměrnosti.



5. Na obrázku jsou digitální číslice. U číslic, které jsou osově souměrné vyznač osy souměrnosti, u číslic, které jsou středově souměrné vyznač středy souměrnosti.

