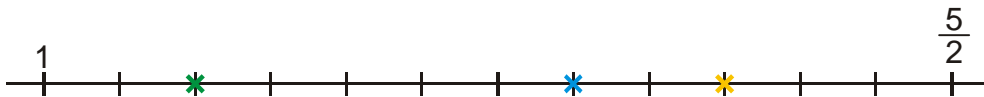
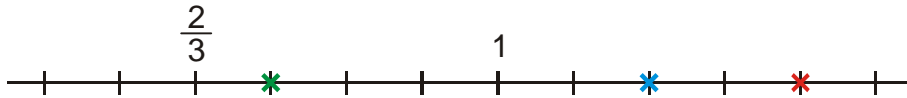


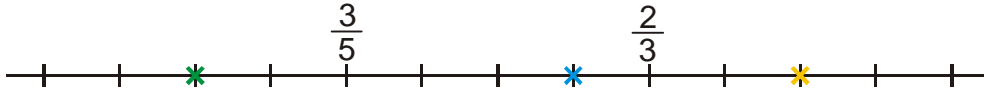
4. Která čísla jsou zobrazena na části číselné osy? Dokresli do obrázku čísla: a) 2 b) $\frac{3}{2}$ c) $\frac{7}{4}$ d) $\frac{13}{8}$



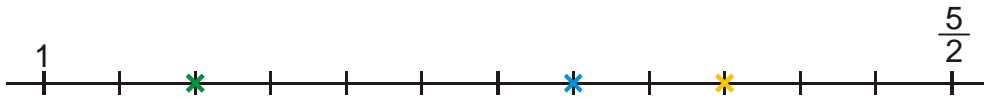
5. Která čísla jsou zobrazena na části číselné osy? Dokresli do obrázku čísla: a) $\frac{11}{12}$ b) $\frac{5}{6}$ c) $\frac{5}{4}$ d) $\frac{9}{8}$



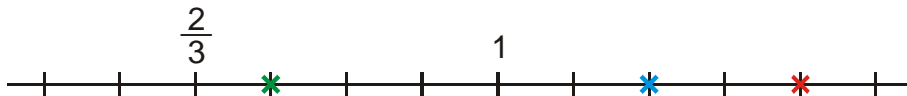
8. Která čísla jsou zobrazena na části číselné osy? Dokresli do obrázku čísla: a) $\frac{11}{15}$ b) $\frac{19}{30}$ c) $\frac{13}{20}$ d) $\frac{3}{4}$



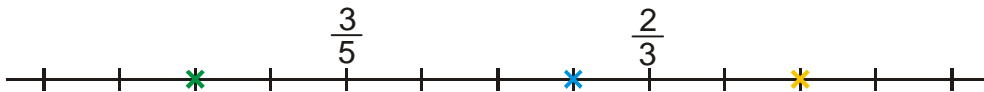
4. Která čísla jsou zobrazena na části číselné osy? Dokresli do obrázku čísla: a) 2 b) $\frac{3}{2}$ c) $\frac{7}{4}$ d) $\frac{13}{8}$



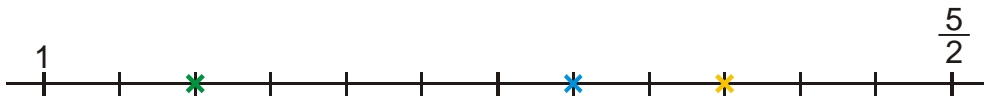
5. Která čísla jsou zobrazena na části číselné osy? Dokresli do obrázku čísla: a) $\frac{11}{12}$ b) $\frac{5}{6}$ c) $\frac{5}{4}$ d) $\frac{9}{8}$



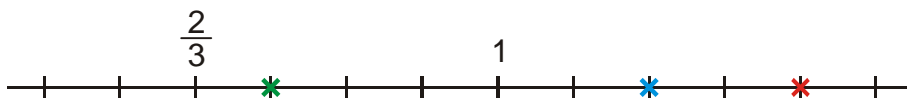
8. Která čísla jsou zobrazena na části číselné osy? Dokresli do obrázku čísla: a) $\frac{11}{15}$ b) $\frac{19}{30}$ c) $\frac{13}{20}$ d) $\frac{3}{4}$



4. Která čísla jsou zobrazena na části číselné osy? Dokresli do obrázku čísla: a) 2 b) $\frac{3}{2}$ c) $\frac{7}{4}$ d) $\frac{13}{8}$



5. Která čísla jsou zobrazena na části číselné osy? Dokresli do obrázku čísla: a) $\frac{11}{12}$ b) $\frac{5}{6}$ c) $\frac{5}{4}$ d) $\frac{9}{8}$



8. Která čísla jsou zobrazena na části číselné osy? Dokresli do obrázku čísla: a) $\frac{11}{15}$ b) $\frac{19}{30}$ c) $\frac{13}{20}$ d) $\frac{3}{4}$

