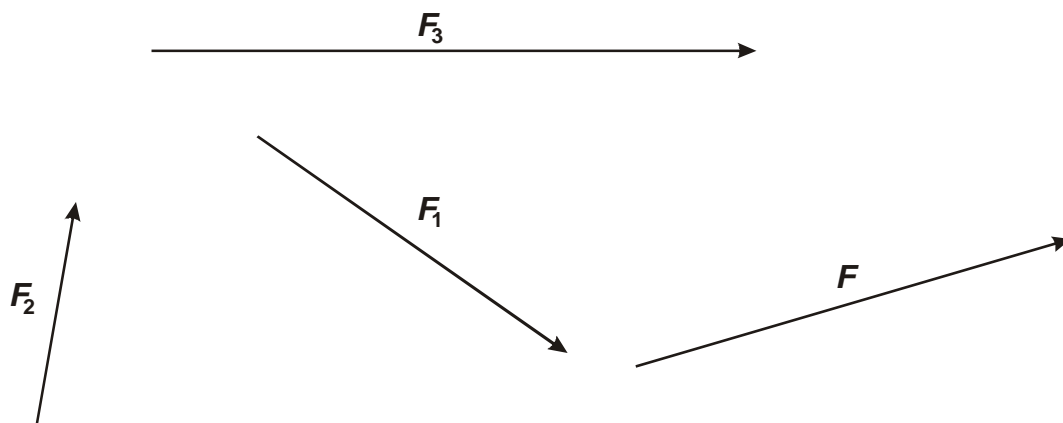


4. Síla F na papírku má velikost 9 N. Urči velikost ostatních sil. Narýsuj na papírek:

a) sílu F_4 o velikosti 15 N, se stejným působištěm jako má síla F_2 a se stejným směrem jako má síla F_3 ,

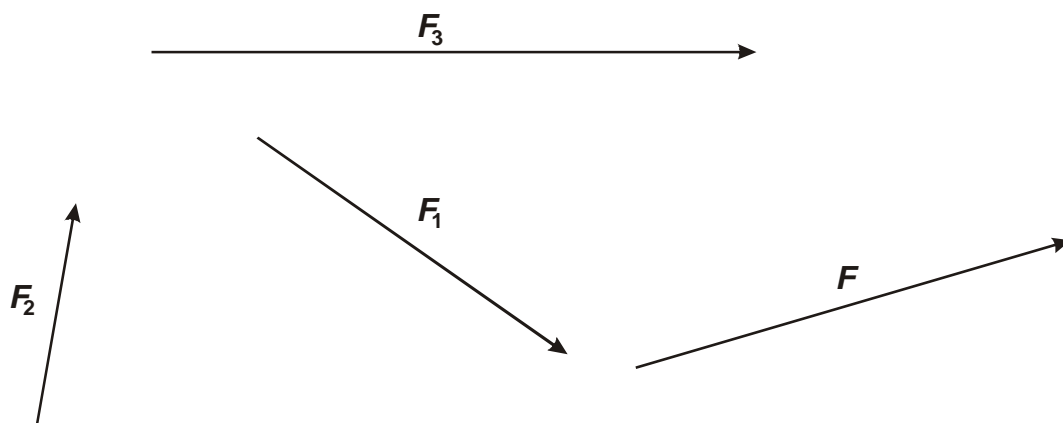
b) sílu F_5 o velikosti 6 N, se stejným působištěm jako má síla F a s opačným směrem než má síla F_1 .



4. Síla F na papírku má velikost 9 N. Urči velikost ostatních sil. Narýsuj na papírek:

a) sílu F_4 o velikosti 15 N, se stejným působištěm jako má síla F_2 a se stejným směrem jako má síla F_3 ,

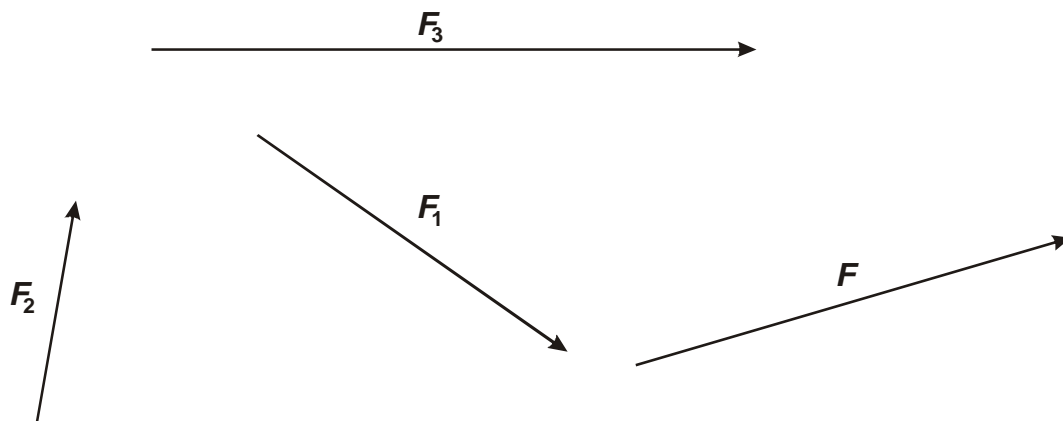
b) sílu F_5 o velikosti 6 N, se stejným působištěm jako má síla F a s opačným směrem než má síla F_1 .



4. Síla F na papírku má velikost 9 N. Urči velikost ostatních sil. Narýsuj na papírek:

a) sílu F_4 o velikosti 15 N, se stejným působištěm jako má síla F_2 a se stejným směrem jako má síla F_3 ,

b) sílu F_5 o velikosti 6 N, se stejným působištěm jako má síla F a s opačným směrem než má síla F_1 .



1. (hodina 020302) Zakresli do obrázku všechny síly, které působí:

a) na uřona v kravatě,


b) na artistické kolečko, na kterém jede artista,

c) na každý z míčků.


a)



b)



c)



1. (hodina 020302) Zakresli do obrázku všechny síly, které působí:

a) na uřona v kravatě,


b) na artistické kolečko, na kterém jede artista,

c) na každý z míčků.

a)



b)



c)



1. (hodina 020302) Zakresli do obrázku všechny síly, které působí:

a) na uřona v kravatě,


b) na artistické kolečko, na kterém jede artista,

c) na každý z míčků.

a)



b)



c)

