

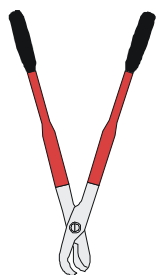
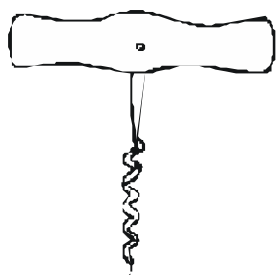


Všechny následující nástroje využívají páku. Dokresli do obrázku osu otáčení a působící síly (pokud má nástroj dvě ramena, kresli pouze síly působící na jedno z nich).



Všechny následující nástroje využívají páku. Dokresli do obrázku osu otáčení a působící síly (pokud má nástroj dvě ramena, kresli pouze síly působící na jedno z nich).

